

	<i>Documento de Apoyo</i>	Código	<b>D CE 07</b>
	<b>MANUAL PRUEBA TEÓRICA</b> Tomado de la Resolución 1600 de Junio 27 de 2.005 Anexo I	Versión	<b>00</b>
		Página	<b>58 de 117</b>
		Vigencia	<b>10/05/2016</b>

## GRUPO III

### SEÑALES DE TRÁNSITO Y USO DE LA INFRAESTRUCTURA VIAL

**1. Qué tipo de transporte está prohibido en las vías públicas en sectores de tranquilidad?**

- A. Taxis
- B. Buses
- C. Carga
- D. Transporte Oficial

**Respuesta: C.**

**2. Está prohibido detener el vehículo en:**

- A. Sobre una zona escolar
- B. Sobre una vía férrea
- C. En paso peatonal, cruce o intersección
- D. En un carril exclusivo para peatones.
- E. La Respuesta C y D, son Correctas

**Respuesta: E.**

**3. En una vía de dos carriles de doble sentido de circulación, se pueden hacer maniobras de adelantamiento por:**

- A. El carril de la derecha con precaución
- B. El carril de la izquierda con precaución
- C. No se pueden realizar adelantamientos
- D. Ninguna de las anteriores.

**Respuesta: B.**

**4. Cuáles de los siguientes tipos de vehículos les esta prohibido transitar por aceras o puentes para uso exclusivo de peatones:**

- A. Bicicletas
- B. Motocicletas, Motociclos
- C. Tracción animal
- D. Todas las anteriores

**Respuesta: D.**

**5. No se debe adelantar bajo ninguna circunstancia a otro vehículo en:**

- A. En intersecciones

	<i>Documento de Apoyo</i>	Código	<b>D CE 07</b>
	<b>MANUAL PRUEBA TEÓRICA</b> Tomado de la Resolución 1600 de Junio 27 de 2.005 Anexo I	Versión	<b>00</b>
		Página	<b>59 de 117</b>
		Vigencia	<b>10/05/2016</b>

- B. En los tramos de la vía en donde exista línea separadora central continua o prohibición de adelantamiento.
- C. La Respuesta A, B y D, son Correctas
- D. En curvas o pendientes.

**Respuesta: C.**

**6. No se debe adelantar bajo ninguna circunstancia a otro vehículo en:**

- A. En vías nacionales
- B. La Respuesta C y D, son Correctas
- C. Cuando la visibilidad sea desfavorable
- D. En las proximidades de pasos de peatones

**Respuesta: B.**

**7. No se debe adelantar bajo ninguna circunstancia a otro vehículo en:**

- A. Vías troncales
- B. En las intersecciones de las vías férreas
- C. Por la berma o por la derecha de un vehículo
- D. Cuando la maniobra ofrezca peligro
- E. La Respuesta B, C y D, son Correctas

**Respuesta: E.**

**8.Cuál de las siguientes definiciones describe mejor lo que son las señales de tránsito?**

- A. Un código de información colocadas al lado y lado de la vía que regulan el comportamiento de los conductores.
- B. Un sistema directo de comunicación mediante el cuál se emiten mensajes convencionales a conductores y usuarios de las vías, para que estos respondan con un comportamiento adecuado.
- C. Un sistema de elementos pintados en el piso, que informan a las personas que transitan por una vía como y por donde debe desplazarse.
- D. Todas las anteriores.

**Respuesta: B.**

**9. Cuáles de las siguientes funciones no le corresponde a las señales de tránsito?**

- A. Advertir peligros
- B. Aplicar multas
- C. Ordenar el tránsito
- D. Recordar normas

**Respuesta: B.**

**10. Cuáles de las siguientes funciones no le corresponde a las señales de tránsito?**

	Documento de Apoyo	Código	D CE 07
	<b>MANUAL PRUEBA TEÓRICA</b> Tomado de la Resolución 1600 de Junio 27 de 2.005 Anexo I	Versión	00
		Página	60 de 117
		Vigencia	10/05/2016

- A. Adornar la ciudad
- B. Informar a los usuarios
- C. Aumentar la seguridad
- D. Mejorar la movilidad de las personas.
- E. La Respuesta A y D, son Correctas

**Respuesta: E.**

**11.Cuál de los siguientes enunciados define mejor a una señal de tránsito horizontal?**

- A. Son marcas que se dibujan en el pavimento y tienen como función principal complementar las demás señales de tránsito.
- B. Son líneas, símbolos, figuras, palabras o números que se colocan sobre el pavimento para indicarle a los usuarios de la vía, por donde y como deben desplazarse.
- C. Toda señal de tránsito que va sobre la vía.
- D. La Respuesta B y C, son Correctas

**Respuesta: D.**

**12.Cuál de los siguientes dispositivos no corresponde al grupo de señales de tránsito horizontal?**

- A. Marcas viales
- B. Líneas longitudinales
- C. Líneas transversales
- D. Dispositivos sonoros


**Respuesta: D.**

**13. Las señales verticales se clasifican en:**

- A. Reglamentarias, informativas y preventivas
- B. Longitudinales y transversales
- C. Blancas y amarillas
- D. Rayas dobles continuas y discontinuas

**Respuesta: A.**

**14.Cuál de las siguientes señales indica al conductor que se aproxima a una curva peligrosa a la derecha?**



	Documento de Apoyo	Código	D CE 07
	<b>MANUAL PRUEBA TEÓRICA</b> Tomado de la Resolución 1600 de Junio 27 de 2.005 Anexo I	Versión	00
		Página	61 de 117
		Vigencia	10/05/2016

A

B

C

D

Respuesta: B.

15. Cuál de las siguientes señales indica al conductor que se aproxima a una curva peligrosa a la izquierda?

SP03



A

SP07



B

SP01



C

SP05



D

Respuesta: C.

16. Cuál de las siguientes señales indica al conductor que se aproxima a una curva pronunciada a la derecha?

SP08



A

SP10



B

SP04



C

SP06



D

Respuesta: C.

17. Cuál de las siguientes señales indica al conductor que se aproxima a una curva pronunciada a la izquierda?

SP01

SP30

SP03

SP09

	<i>Documento de Apoyo</i>		Código	<b>D CE 07</b>
	<b>MANUAL PRUEBA TEÓRICA</b> Tomado de la Resolución 1600 de Junio 27 de 2.005 Anexo I		Versión	<b>00</b>
			Página	<b>62 de 117</b>
			Vigencia	<b>10/05/2016</b>



A



B



C



D

Respuesta: C.

17. *Cuál de las siguientes señales indica al conductor que se aproxima a una zona deportiva?*

SP003



A

SP47



B

SP46



C

SP48



D

Respuesta: D.

19. *Cuál de las siguientes señales indica al conductor que se aproxima a una curva y contra curva pronunciada a la izquierda?*

SR05



A

SP03



B

SP09



C

SP34




D

Respuesta: C.

	Documento de Apoyo	Código	D CE 07
	<b>MANUAL PRUEBA TEÓRICA</b> Tomado de la Resolución 1600 de Junio 27 de 2.005 Anexo I	Versión	00
		Página	63 de 117
		Vigencia	10/05/2016

20. Cuál de las siguientes señales indica al conductor que se aproxima a una curva y contra curva pronunciada a la derecha?




Respuesta: D.

21. Cuál de las siguientes señales indica al conductor que se aproxima a una curva sucesiva primera izquierda?



Respuesta: B


22. Cuál de las siguientes señales indica al conductor que se aproxima a una curva sucesiva primera derecha?



Respuesta: C.

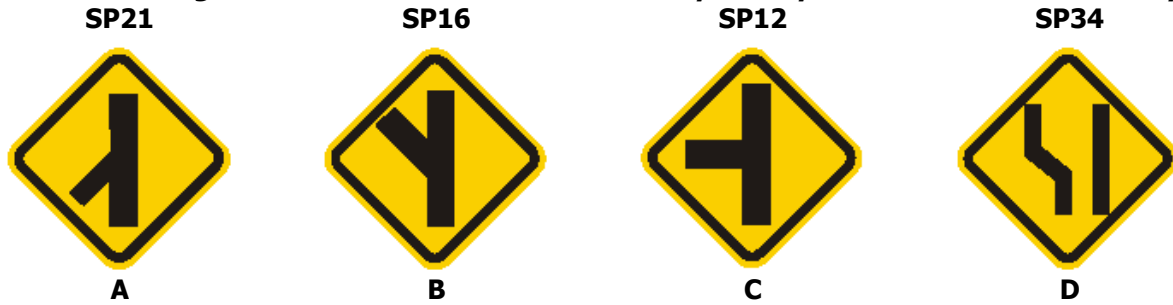
	<i>Documento de Apoyo</i>		Código	D CE 07
	<b>MANUAL PRUEBA TEÓRICA</b> Tomado de la Resolución 1600 de Junio 27 de 2.005 Anexo I		Versión	00
			Página	64 de 117
			Vigencia	10/05/2016

23. *Cuál de las siguientes señales indica al conductor que se aproxima a una intersección de vías?*




Respuesta: C.

24. *Cuál de las siguientes señales indica al conductor que se aproxima a vía lateral a la izquierda?*



Respuesta: C.

25. *Cuál de las siguientes señales indica al conductor que se aproxima a una vía lateral a la derecha?*



Respuesta: C.

26. *Cuál de las siguientes señales indica al conductor que se aproxima a una vía bifurcación en T?*




	<i>Documento de Apoyo</i>	Código	<b>D CE 07</b>
	<b>MANUAL PRUEBA TEÓRICA</b> Tomado de la Resolución 1600 de Junio 27 de 2.005 Anexo I	Versión	<b>00</b>
		Página	<b>65 de 117</b>
		Vigencia	<b>10/05/2016</b>



**A**



**B**



**C**



**D**

**Respuesta: D.**

**27. Cuál de las siguientes señales indica al conductor que se aproxima a una bifurcación en Y?**

**SP14**



**A**

**SP16**



**B**

**SP15**



**C**

**SP21**



**D**

**Respuesta: C**

**28. Cuál de las siguientes señales indica al conductor que se aproxima a una bifurcación derecha?**

**SP15**



**A**

**SP22**



**B**

**SP17**



**C**

**SP13**



**D**

**Respuesta: C.**

**29. Cuál de las siguientes señales indica al conductor que se aproxima a una bifurcación izquierda?**

**SP12**

**SP17**

**SP21**

**SP31**



	Documento de Apoyo	Código	D CE 07
	<b>MANUAL PRUEBA TEÓRICA</b> Tomado de la Resolución 1600 de Junio 27 de 2.005 Anexo I	Versión	00
		Página	66 de 117
		Vigencia	10/05/2016



A



B



C



D

Respuesta: C

30. Cuál de las siguientes señales indica al conductor que se aproxima a una bifurcación escalonada izquierda-derecha?

SP34



A

SP30



B

SP18



C

SP32



D

Respuesta: C

31. Cuál de las siguientes señales indica al conductor que se aproxima a una bifurcación escalonada derecha-izquierda?

SP19



A

SP32



B

SP35



C

SP08




D

Respuesta: A.

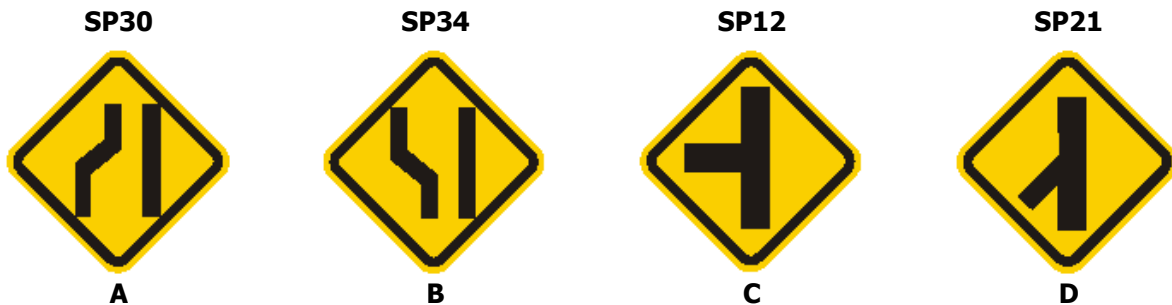
32. Cuál de las siguientes señales indica al conductor que se aproxima a una glorieta?

<p>Documento de Apoyo</p> <p><b>MANUAL PRUEBA TEÓRICA</b></p> <p>Tomado de la Resolución 1600 de Junio 27 de 2.005 Anexo I</p>	Código	D CE 07
	Versión	00
	Página	67 de 117
	Vigencia	10/05/2016




Respuesta: D.

33. *Cuál de las siguientes señales indica al conductor que se aproxima a una incorporación de tránsito izquierda?*




Respuesta: D.

34. *Cuál de las siguientes señales indica al conductor que se aproxima a una incorporación de tránsito derecha?*



Respuesta: B.

35. *Cuál de las siguientes señales indica al conductor que se aproxima a un semáforo?*



	<i>Documento de Apoyo</i>		Código	<b>D CE 07</b>
	<b>MANUAL PRUEBA TEÓRICA</b> Tomado de la Resolución 1600 de Junio 27 de 2.005 Anexo I		Versión	<b>00</b>
			Página	<b>68 de 117</b>
			Vigencia	<b>10/05/2016</b>



A

Respuesta: C.



B



C



D

36. *Cuál de las siguientes señales indica al conductor que se aproxima a una superficie rizada?*

SP42

SP26

SP44

SP24



A

Respuesta: D.



B



C



D

37. *Cuál de las siguientes señales indica al conductor que se aproxima a un resalto?*

SP26

SP56A

SP25

SP24



A

Respuesta: C.



B



C



D

38. *Cuál de las siguientes señales indica al conductor que se aproxima a una depresión?*

SP27

SP26

SPC02

SP55



A

Respuesta: B.



B




C



D

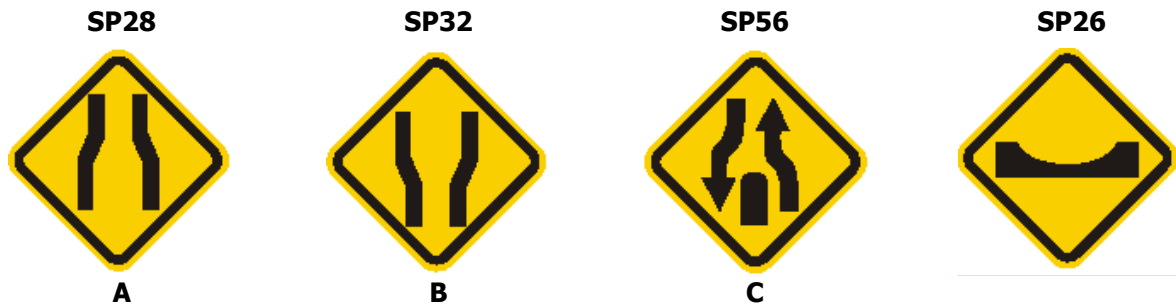
<p>Documento de Apoyo</p> <p><b>MANUAL PRUEBA TEÓRICA</b></p> <p>Tomado de la Resolución 1600 de Junio 27 de 2.005 Anexo I</p>	Código	D CE 07
	Versión	00
	Página	69 de 117
	Vigencia	10/05/2016

39. *Cuál de las siguientes señales indica al conductor que se aproxima a un descenso peligroso?*




Respuesta: D.

40. *Cuál de las siguientes señales indica al conductor que se aproxima a una reducción simétrica de la calzada?*



Respuesta: A.

41. *Cuál de las siguientes señales indica al conductor de una prevención de ceda el paso?*



Respuesta: A.

42. *Cuál de las siguientes señales indica al conductor que se aproxima a una reducción asimétrica de la calzada izquierda?*



	<i>Documento de Apoyo</i>		Código	D CE 07
	<b>MANUAL PRUEBA TEÓRICA</b> Tomado de la Resolución 1600 de Junio 27 de 2.005 Anexo I		Versión	00
			Página	70 de 117
			Vigencia	10/05/2016



A

Respuesta: B.



B



C



D

43. Cuál de las siguientes señales indica al conductor que esta prohibido el uso de dispositivos o señales sonoras?

SR39



A

Respuesta: D.

SR44



B

SR35



C

SR29



D

44. Cuál de las siguientes señales indica al conductor que se aproxima a un ensanche simétrico de la calzada ?

SP32



A

Respuesta: A.

SP36



B

SP34



C

SP28



D

45. Cuál de las siguientes señales indica al conductor que no puede girar a la izquierda?

SR10



A

Respuesta: C.

SR45



B

SR06



C


SR05



D


<p>Documento de Apoyo</p> <p><b>MANUAL PRUEBA TEÓRICA</b></p> <p>Tomado de la Resolución 1600 de Junio 27 de 2.005 Anexo I</p>	Código	D CE 07
	Versión	00
	Página	71 de 117
	Vigencia	10/05/2016

46. Cuál de las siguientes señales indica al conductor que se aproxima al ensanche asimétrico de la calzada izquierda?



Respuesta: D.

47. Cuál de las siguientes señales indica al conductor que se aproxima a un ensanche asimétrico de la calzada derecha?



Respuesta: B.

48. Cuál de las siguientes señales informa al conductor que se aproxima a un puente angosto?



Respuesta: C.

49. Cuál de las siguientes señales indica al conductor que se aproxima a un túnel?



	<i>Documento de Apoyo</i>		Código	<b>D CE 07</b>
	<b>MANUAL PRUEBA TEÓRICA</b> Tomado de la Resolución 1600 de Junio 27 de 2.005 Anexo I		Versión	<b>00</b>
			Página	<b>72 de 117</b>
			Vigencia	<b>10/05/2016</b>



A



B



C



D

Respuesta: D.

50. *Cuál de las siguientes señales indica al conductor que debe ceder el paso?*

SR1



A

SR2



B

SR41



C

SR4



D

Respuesta: B.

51. *Cuál de las siguientes señales indica al conductor que la circulación es en dos sentidos?*

SP36



A

SP41



B

SP39



C

SP67



D

Respuesta: C.

52. *Cuál de las siguientes señales indica al conductor que se aproxima a una vía con tres carriles y uno de contra flujo?*

SP35



SP33



SP32



SP41



	<i>Documento de Apoyo</i>		Código	<b>D CE 07</b>
	<b>MANUAL PRUEBA TEÓRICA</b> Tomado de la Resolución 1600 de Junio 27 de 2.005 Anexo I		Versión	<b>00</b>
			Página	<b>73 de 117</b>
			Vigencia	<b>10/05/2016</b>

**A**  
Respuesta: D.

**B**

**C**

**D**

**53. Cuál de las siguientes señales informa que se aproxima una vía de tres carriles, con dos en contra flujo?**

**SP35**



**A**

**SP33**



**B**

**SP43**



**C**

**SP55**



**D**

Respuesta: C.

**54. Cuál de las siguientes señales indica al conductor que se aproxima a una zona de derrumbe?**

**SP42**



**A**

**SP67**



**B**

**SP27**



**C**

**SP0-01**



**D**

Respuesta: A.

**55. Cuál de las siguientes señales indica al conductor que se aproxima a una superficie deslizante?**

**SP34**



**A**

**SP67**



**B**

**SP27**



**C**

**SP44**




**D**

Respuesta: D.



<p>Documento de Apoyo</p> <p><b>MANUAL PRUEBA TEÓRICA</b></p> <p>Tomado de la Resolución 1600 de Junio 27 de 2.005 Anexo I</p>	Código	D CE 07
	Versión	00
	Página	74 de 117
	Vigencia	10/05/2016

56. Cuál de las siguientes señales indica al conductor que se aproxima a una zona donde puede circular maquinaria agrícola?




Respuesta: B.

57. Cuál de las siguientes señales indica al conductor se aproxima a una parte donde pueden circular peatones en la vía?



Respuesta: C.

58. Cuál de las siguientes señales indica al conductor que se aproxima una zona escolar?



Respuesta: C

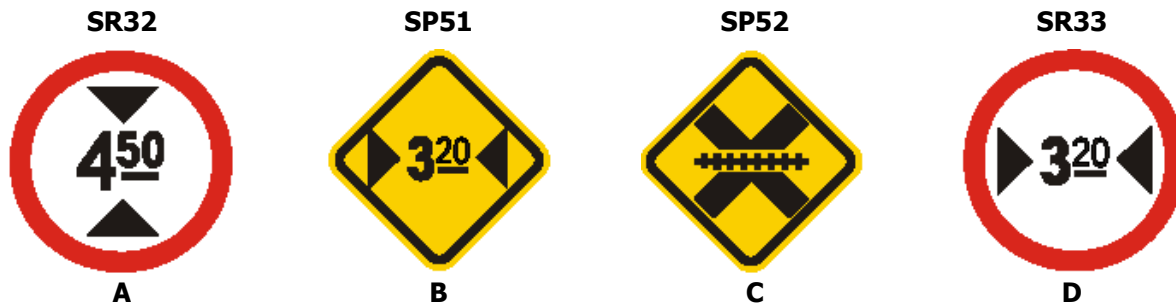
	Documento de Apoyo	Código	D CE 07
	<b>MANUAL PRUEBA TEÓRICA</b> Tomado de la Resolución 1600 de Junio 27 de 2.005 Anexo I	Versión	00
		Página	75 de 117
		Vigencia	10/05/2016

59. Cuál de las siguientes señales indica al conductor que se aproxima a un punto donde pueden circular animales en la vía?.



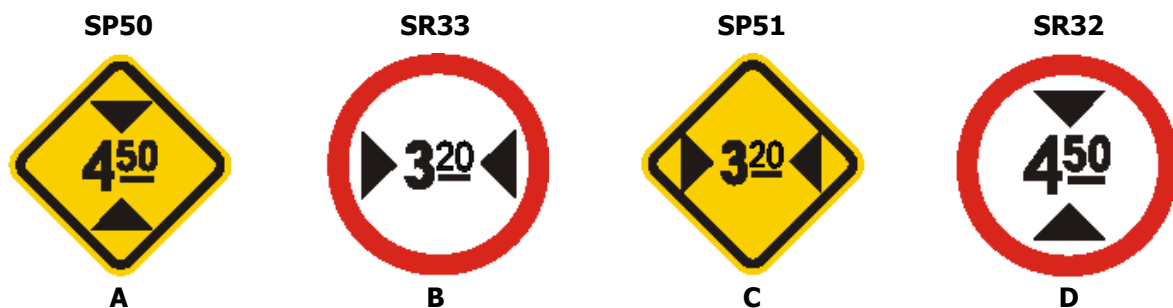
Respuesta: A.

60. Cuál de las siguientes señales indica al conductor cual es la altura máxima permitida en el tramo de la vía?



Respuesta: A.

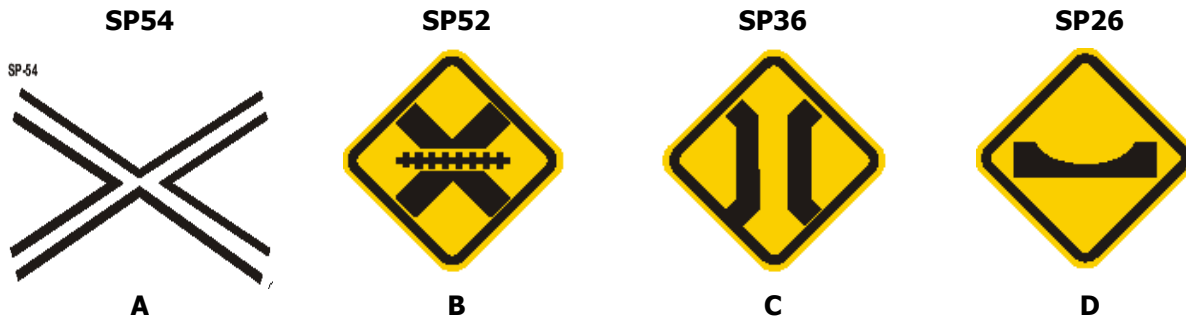
61. Cuál de las siguientes señales indica cual es el ancho libre de la vía?



	Documento de Apoyo	Código	D CE 07
	<b>MANUAL PRUEBA TEÓRICA</b> Tomado de la Resolución 1600 de Junio 27 de 2.005 Anexo I	Versión	00
		Página	76 de 117
		Vigencia	10/05/2016

Respuesta: C

62. Cuál de las siguientes señales indica al conductor que hay un cruce a nivel con el ferrocarril?



Respuesta: A.

63. Cuál de las siguientes señales indica al conductor que se aproxima a una iniciación de una vía con separador por dos sentidos?



Respuesta: A.

64. Cuál de las siguientes señales indica al conductor que se aproxima a la iniciación del separador en un sentido?



<i>Documento de Apoyo</i>		Código	D CE 07
<b>MANUAL PRUEBA TEÓRICA</b> Tomado de la Resolución 1600 de Junio 27 de 2.005 Anexo I		Versión	00
		Página	77 de 117
		Vigencia	10/05/2016

**Respuesta: B.**

**65. Cuál de las siguientes señales indica al conductor que se aproxima a la terminación de la vía con separador en dos sentidos?**




**Respuesta: C.**

**66. Cuál de las siguientes señales indica al conductor que se aproxima la terminación de la vía con separador en un sentido?**



**Respuesta: D.**


**67. Cuál de las siguientes señales indica al conductor que se aproxima al final del pavimento de la vía?**



	<i>Documento de Apoyo</i>		Código	<b>D CE 07</b>
	<b>MANUAL PRUEBA TEÓRICA</b> Tomado de la Resolución 1600 de Junio 27 de 2.005 Anexo I		Versión	<b>00</b>
			Página	<b>78 de 117</b>
			Vigencia	<b>10/05/2016</b>

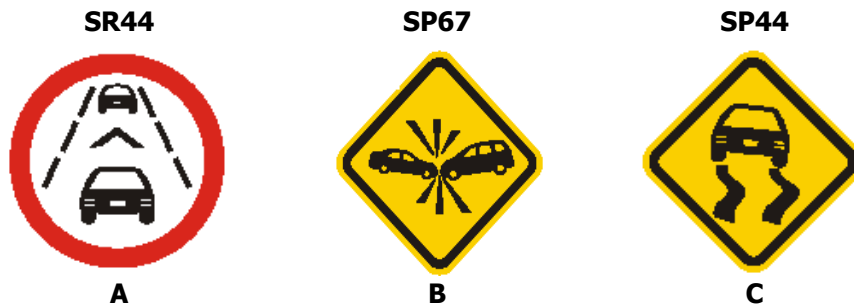
Respuesta: A.

68. Cuál de las siguientes señales indica al conductor que se aproxima a una vía para ciclistas?



Respuesta: D.

69. Cuál de las siguientes señales indica al conductor que se aproxima a una vía con riesgo de accidentes?



Respuesta: B.

70. Cuál de las siguientes señales indica al conductor que se aproxima a una vía donde se realizan trabajos?



	Documento de Apoyo	Código	D CE 07
	<b>MANUAL PRUEBA TEÓRICA</b> Tomado de la Resolución 1600 de Junio 27 de 2.005 Anexo I	Versión	00
		Página	79 de 117
		Vigencia	10/05/2016

Respuesta: A.

71. *Cuál de las siguientes señales indica al conductor que se aproxima a una vía donde hay maquinaria?*

SPO02



A

SPO01



B

SP45



C

D

Respuesta: A.

72. *Cuál de las siguientes señales indica al conductor que se aproxima a una vía donde hay una persona (banderero) que hace señales con banderas?*

SP46



A

SI40



B

SPO03



C

D

Respuesta: C

73. *Cuál de las siguientes señales indica al ciclista que se aproxima a una vía con descenso peligroso?*

SP37



A

SPC02



B

SP57

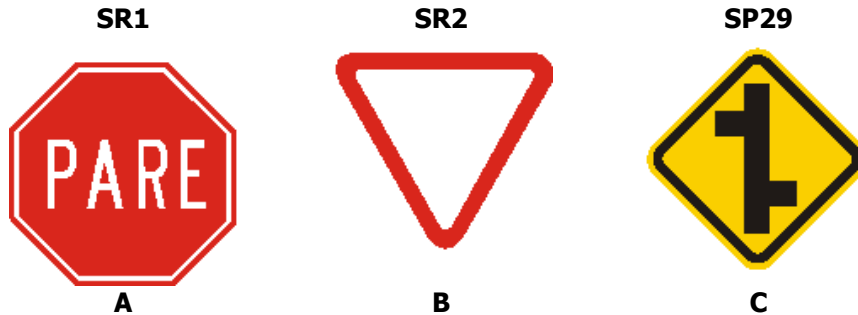


C

	Documento de Apoyo	Código	D CE 07
	<b>MANUAL PRUEBA TEÓRICA</b> Tomado de la Resolución 1600 de Junio 27 de 2.005 Anexo I	Versión	00
		Página	80 de 117
		Vigencia	10/05/2016

Respuesta: B.

74. *Cuál de las siguientes señales indica al conductor que debe parar inmediatamente?*



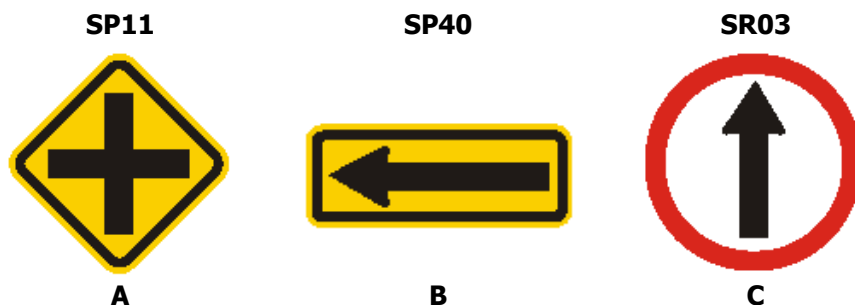
Respuesta: A.

75. *Cuál de las siguientes señales indica al conductor que debe ceder el paso?*



Respuesta: C.

76. *Cuál de las siguientes señales indica al conductor que debe seguir de frente?*



Respuesta: C.

	<i>Documento de Apoyo</i>	Código	<b>D CE 07</b>
	<b>MANUAL PRUEBA TEÓRICA</b> Tomado de la Resolución 1600 de Junio 27 de 2.005 Anexo I	Versión	<b>00</b>
		Página	<b>81 de 117</b>
		Vigencia	<b>10/05/2016</b>

**77. Cuál de las siguientes señales indica al conductor que puede girar a la izquierda solamente?**



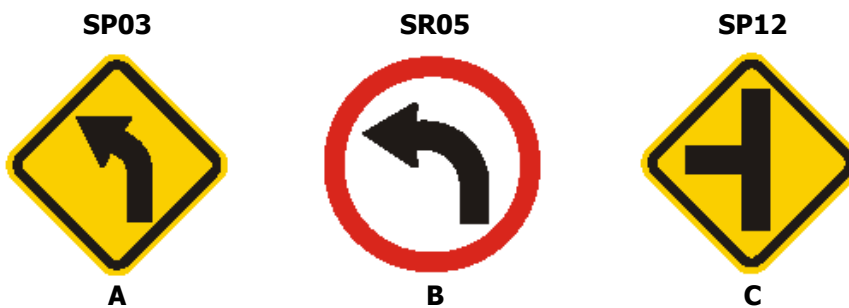
**Respuesta: C.**

**78. Cuál de las siguientes señales indica al conductor que no puede girar la izquierda?**



**Respuesta: A.**

**79. Cuál de las siguientes señales indica al conductor que puede girar a la izquierda?**



**Respuesta: B.**



	Documento de Apoyo	Código	D CE 07
	<b>MANUAL PRUEBA TEÓRICA</b> Tomado de la Resolución 1600 de Junio 27 de 2.005 Anexo I	Versión	00
		Página	82 de 117
		Vigencia	10/05/2016

**80. Esta señal indica:**

**SP57**



**A**

- A. Delineador de curva
- B. Final del pavimento
- C. Superficie deslizante
- D. Zona de derrumbe

**Respuesta: B.**

**81.Cuál de las siguientes señales indica al conductor que no puede girar la izquierda?**

**SP10**



**A**

**SR06**



**B**

**SP35**



**C**

Respuesta: B.

**82. Esta señal indica:**

**SP46**



**A**

- A. Conserve su Derecha

	<i>Documento de Apoyo</i>	Código	<b>D CE 07</b>
	<b>MANUAL PRUEBA TEÓRICA</b> Tomado de la Resolución 1600 de Junio 27 de 2.005 Anexo I	Versión	<b>00</b>
		Página	<b>83 de 117</b>
		Vigencia	<b>10/05/2016</b>

- B Peatones a la izquierda
- C Ceda el paso
- D Peatones en la vía

**Respuesta: D.**

**83. Esta señal indica:**

**SP42**



**A**

- A. Delineador de curva
- B. Final del pavimento
- C. Superficie deslizante
- D. Zona de derrumbe

**Respuesta: D.**

**84.Cuál de las siguientes señales prohíbe la circulación de cabalgaduras?**

**SR25**



**A**

**SR21**



**B**

**SP49**



**C**

**Respuesta: B**

**85. Si usted ve esta señal qué debe hacer?**

	<i>Documento de Apoyo</i>	Código	<b>D CE 07</b>
	<b>MANUAL PRUEBA TEÓRICA</b> Tomado de la Resolución 1600 de Junio 27 de 2.005 Anexo I	Versión	<b>00</b>
		Página	<b>84 de 117</b>
		Vigencia	<b>10/05/2016</b>

**SR35**



**A**

- A. Circular con luces altas
- B. Circular con luces bajas
- C. Realizar cambio de luces
- D. Encender las luces

**Respuesta B.**

**86. Si usted conduce un vehículo de carga y se encuentra esta señal que le indica:**

**SR32**



**A**

- A. Que la carga debe medir 4,50 metros de alto
- B. Que la altura máxima permitida es de 4,50 metros
- C. Que el ancho del vehículo es de 4,50 metros
- D. Que el ancho máximo permitido es de 4,50 metros

**Respuesta: B.**

**87. Cuando vea esta señal el conductor no podrá:**

**SR41**



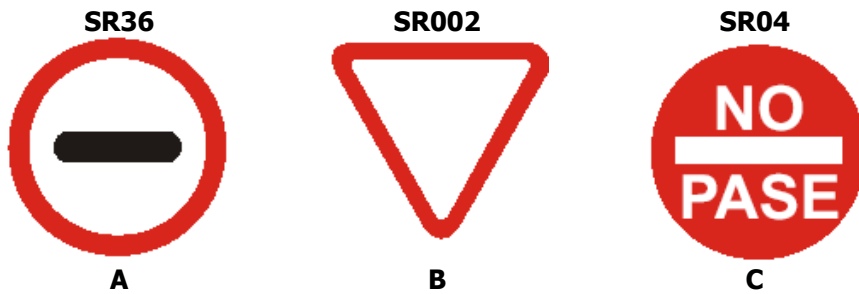
**A**

	Documento de Apoyo	Código	D CE 07
	<b>MANUAL PRUEBA TEÓRICA</b> Tomado de la Resolución 1600 de Junio 27 de 2.005 Anexo I	Versión	00
		Página	85 de 117
		Vigencia	10/05/2016

- A. Cargar o descargar pasajeros en este punto
- B. Cargar o descargar mercancías en este punto
- C. Parquear en este punto.
- D. Ni parquear Ni Detenerse.

**Respuesta: A.**

**88. Cuál de las siguientes señales indica al conductor que la vía esta cerrada?**



**Respuesta: C.**

**89. Cuando el conductor se encuentre con esta señal podrá:**

SR38



A

- A Circular en doble sentido
- B Circular en un solo sentido en la misma dirección que la flecha
- C Circular solo a su derecha
- D Circular solo hacia su izquierda

**Respuesta: B.**


**90. Cuál de las siguientes señales prohíbe la circulación de cabalgaduras?**

	<i>Documento de Apoyo</i>	Código	<b>D CE 07</b>
	<b>MANUAL PRUEBA TEÓRICA</b> Tomado de la Resolución 1600 de Junio 27 de 2.005 Anexo I	Versión	<b>00</b>
		Página	<b>86 de 117</b>
		Vigencia	<b>10/05/2016</b>



Respuesta: A.

91. *Cuál de las siguientes señales indica al conductor que debe conservar un espacio?*



- A. Solo la A, es correcta
- B. Sólo la B, es correcta
- C. Sólo la C, es correcta
- D. Todas las anteriores, son correctas

Respuesta: A.

92. *Cuál de las siguientes señales prohíbe la circulación de vehículos de tracción animal?*



Respuesta: B.

	<i>Documento de Apoyo</i>	Código	<b>D CE 07</b>
	<b>MANUAL PRUEBA TEÓRICA</b> Tomado de la Resolución 1600 de Junio 27 de 2.005 Anexo I	Versión	<b>00</b>
		Página	<b>87 de 117</b>
		Vigencia	<b>10/05/2016</b>

**93. Cuál de las siguientes señales indica al conductor que esta prohibido cargar o descargas mercancías?**



**Respuesta: B.**

**94. Cuál de las siguientes señales indica al conductor que se aproxima a un reten?**



**Respuesta: B.**

**95. Cuál de las siguientes señales no corresponde a una zona de parqueo autorizada?**



**Respuesta: B.**

	<i>Documento de Apoyo</i>	Código	<b>D CE 07</b>
	<b>MANUAL PRUEBA TEÓRICA</b> Tomado de la Resolución 1600 de Junio 27 de 2.005 Anexo I	Versión	<b>00</b>
		Página	<b>88 de 117</b>
		Vigencia	<b>10/05/2016</b>

**96. Cuál de las siguientes señales es una señal de tránsito vertical reglamentaria?**



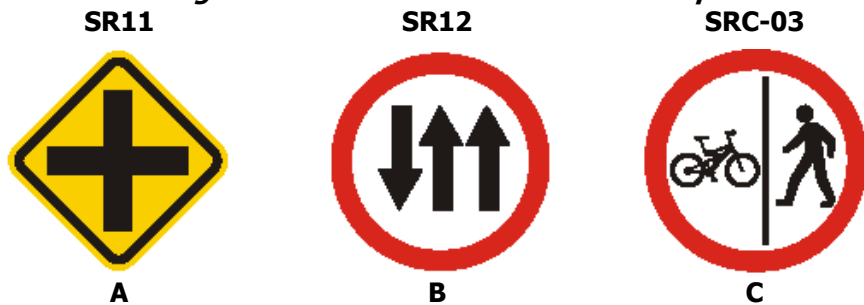
**Respuesta: C.**

**97. Cuál de las siguientes señales de tránsito es horizontal?**



**Respuesta: C.**

**98. Cuál de las siguientes señales indica al conductor que la vía tiene la circulación compartida?**



**Respuesta: C.**

	<i>Documento de Apoyo</i>	Código	<b>D CE 07</b>
	<b>MANUAL PRUEBA TEÓRICA</b> Tomado de la Resolución 1600 de Junio 27 de 2.005 Anexo I	Versión	<b>00</b>
		Página	<b>89 de 117</b>
		Vigencia	<b>10/05/2016</b>

99. *Cuál de las siguientes, señales de tránsito pertenece al grupo de las señales informativas?*



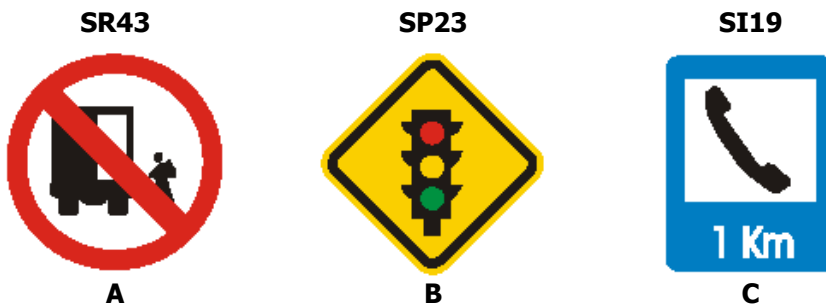
Respuesta: C.

100. *Cuál de las siguientes señales indica al conductor que hay un desvío?*



Respuesta: A

101. *Cuál de las siguientes señales es una señal de tránsito vertical preventiva?*



Respuesta: B.

102. *Cuando usted ve la siguiente señal usted debe:*



	<i>Documento de Apoyo</i>	Código	<b>D CE 07</b>
	<b>MANUAL PRUEBA TEÓRICA</b> Tomado de la Resolución 1600 de Junio 27 de 2.005 Anexo I	Versión	<b>00</b>
		Página	<b>90 de 117</b>
		Vigencia	<b>10/05/2016</b>

**SR44**



- A. Conservar el espacio reglamentario
- B. Girar hacia la derecha
- C. Girar hacia la izquierda
- D. Adelantar el vehículo que va adelante

**Respuesta: A.**

**103. Cuando usted va por una carretera de doble carril en los dos sentidos y en la mitad hay pintadas dos líneas amarillas continuas esto le señala que:**

- A. Puede adelantar al vehículo que va adelante con cuidado
- B. Que no puede realizar adelantamientos en ninguna sentido
- C. Que la visibilidad y las condiciones geométricas de la vía son deficientes
- D. Que puede cambiar de carril

**Respuesta: B.**

**104. Cuando usted va por una carretera de doble carril en los dos sentidos y en el centro de la vía hay pintadas dos líneas amarillas, la izquierda continua y a la derecha discontinua que puede hacer el conductor:**

- A. Adelantar el vehículo que va adelante por la derecha
- B. Adelantar al vehículo que va adelante por la izquierda
- C. Solo el vehículo que va por el carril de la derecha puede hacer adelantamientos o cambio de carril
- D. Solo el vehículo que va por el carril de la izquierda puede hacer adelantamientos o cambio de carril

**Respuesta: C.**

**105. Cuando usted va por una carretera de doble carril en los dos sentidos y en la mitad hay pintadas unas líneas amarilla continuas, esto le indica al conductor que:**

- A. Que no se debe adelantar al vehículo que va adelante
- B. Que en esta parte de la vía hay riesgo de accidentes
- C. Que las condiciones de la vía son peligrosas
- D. Todas las anteriores.

**Respuesta: A.**

	<i>Documento de Apoyo</i>	Código	<b>D CE 07</b>
	<b>MANUAL PRUEBA TEÓRICA</b> Tomado de la Resolución 1600 de Junio 27 de 2.005 Anexo I	Versión	<b>00</b>
		Página	<b>91 de 117</b>
		Vigencia	<b>10/05/2016</b>

**106. Cuando en la parte central de una vía hay una raya amarilla discontinua esto quiere decir que:**

- A. Que se puede adelantar a todos los vehículos
- B. Cada lado de la línea, corresponde a un carril de circulación
- C. Que por lado de la raya corresponde a un flujo de circulación
- D. Que nadie puede salirse del cada carril demarcado por esta línea

**Respuesta: A.**

**107. Las zonas de estacionamiento suelen ir demarcadas con líneas:**

- A. Transversales o diagonales blancas discontinuas
- B. Transversales o diagonales blancas continuas
- C. Longitudinales amarillas continuas
- D. Longitudinales amarillas discontinuas

**Respuesta: B.**

**108. Los límites de cada lado de la vía van señalados con:**

- A. Líneas longitudinales blancas continuas
- B. Líneas transversales blancas discontinuas
- C. Líneas longitudinales amarillas continuas
- D. Líneas transversales amarillas discontinuas

**Respuesta: A.**

**109. Los carriles de una vía se demarcan con:**

- A. Líneas transversales amarillas discontinuas
- B. Líneas transversales amarillas continuas
- C. Líneas transversales blancas continuas
- D. Líneas transversales blancas discontinuas

**Respuesta: D.**

**110. Una berma es:**

- A. Son líneas que indican donde se debe detener un vehículo
- B. Son líneas demarcadas con una inclinación de 40 grados de la línea de borde
- C. Son líneas que indican que este espacio es para peatones, estacionamiento y tránsito de emergencia.
- D. Son espacios demarcados para el estacionamiento

**Respuesta: C.**

**111. Ud. se aproxima a un colegio cuando los niños están saliendo de clases. Con qué debería contar?**

	<i>Documento de Apoyo</i>	Código	<b>D CE 07</b>
	<b>MANUAL PRUEBA TEÓRICA</b>	Versión	<b>00</b>
	Tomado de la Resolución 1600 de Junio 27 de 2.005 Anexo I	Página	<b>92 de 117</b>
		Vigencia	<b>10/05/2016</b>

- A. Con que los niños pueden jugar traviesamente y bajar a la calzada
- B. Con que los niños siempre se comportan correctamente en la vía pública al salir del colegio
- C. Con que los niños pueden cruzar inesperadamente la calzada
- D. Con nada en particular, porque los niños saben que no deben bajar a la calzada en forma sorpresiva.
- E. La Respuesta A y C, son Correctas.

**Respuesta: E.**

**112. Aproximadamente a 80 metros adelante de un colegio se detiene un vehículo de transporte escolar. Podrá representar esto algún peligro?**

- A. No, porque siempre en las afueras de los colegios hay un agente regulando el tránsito
- B. No, porque a los niños se les enseña que siempre deben subir y bajar con mucho cuidado del vehículo
- C. No, porque siempre hay personas mayores cuidando de los niños
- D. Sí, porque algún niño podría correr sorpresivamente por la calzada

**Respuesta: D.**

**113. En relación con los cruces ferroviarios a nivel, Cuál o cuáles de las siguientes afirmaciones es (son) verdadera(s)?**

- A. Está permitido estacionar a 10 m de un cruce ferroviario a nivel
- B. Si ya ha ingresado a un cruce ferroviario y siente que se aproxima un tren a lo lejos, lo mejor es continuar
- C. Si va con la radio de su vehículo encendida, es conveniente apagarla cuando se aproxima a un cruce ferroviario
- D. Nada impide que pueda efectuar un adelantamiento en un cruce ferroviario, si no siente tren alguno en las proximidades.
- E. La Respuesta A y B, son Correctas.

**Respuesta: E.**

**114. En los pasos cebra, Con qué comportamiento de los niños debe contar Ud.?**

- A. Ellos siempre calculan correctamente la velocidad y distancia de los vehículos
- B. La Respuesta C y D, son Correctas.
- C. Ellos pueden ir en un paso cebra y devolverse sin razón aparente
- D. Ellos pueden correr sobre el paso sin fijarse en el tránsito

**Respuesta: B.**

**115. Ud. conduce aproximadamente a 40 km/h. A unos 40 metros el semáforo cambia de verde a amarillo. Qué hace Ud?**

- A. Se detiene
- B. Continúa a la misma velocidad.

	<i>Documento de Apoyo</i>	Código	<b>D CE 07</b>
	<b>MANUAL PRUEBA TEÓRICA</b> Tomado de la Resolución 1600 de Junio 27 de 2.005 Anexo I	Versión	<b>00</b>
		Página	<b>93 de 117</b>
		Vigencia	<b>10/05/2016</b>

- C. Acelera y pasa antes que cambie a rojo.
- D. Si no hay Autoridad de Transito o Cámara de Foto detección puede continuar.

**Respuesta: A.**

**116. En qué caso(s) debe Ud. poner especial cuidado al aproximarse a un cruce cebra?**

- A. Cuando ve peatones que desean cruzar
- B. Cuando su visual sobre el cruce está obstaculizada
- C. Cuando otro vehículo se ha detenido antes del cruce.
- D. Todas las anteriores.

**Respuesta: D.**

**117. Qué debe hacer Ud. Cuando desea cambiarse de carril?**

- A. Fijarse en el tránsito que le va siguiendo
- B. Frenar fuerte antes de cambiarse
- C. Anunciar oportunamente su intención de cambiarse a través de la direccional.
- D. La Respuesta A y C, son Correctas.

**Respuesta: D.**

**118.Cuál de las siguientes afirmaciones es verdadera?**

- A. En la ciudad, en todos los cruces sin excepción, el que se aproxima por la derecha tiene preferencia
- B. Las calles más anchas siempre tienen la preferencia
- C. La regla de la mano derecha también rige en las glorietas
- D. Una calle puede tener preferencia sobre otra aunque sea más angosta

**Respuesta: D.**

**119. Ud. está por ingresar a una glorieta cuando ve que en ella, por su izquierda, viene un vehículo. Debe Ud. cederle el paso?**

- A. No, porque Ud. sólo debe ceder el paso a los vehículos que se aproximan por la derecha
- B. Si, pero sólo si se trata de un vehículo pesado
- C. Si, pero sólo si se trata de un vehículo de transporte de escolares
- D. Si, porque en las rotondas tienen preferencia los vehículos que circulan por ella

**Respuesta: D.**

**120. Usted va por una calle de doble sentido de tránsito. Para girar a la izquierda, Dónde debería ubicarse?**

- A. Lo más a la derecha posible
- B. Justo a la izquierda de la línea de centro de calzada
- C. Justo a la derecha de la línea de centro de calzada.

	<i>Documento de Apoyo</i>	Código	<b>D CE 07</b>
	<b>MANUAL PRUEBA TEÓRICA</b> Tomado de la Resolución 1600 de Junio 27 de 2.005 Anexo I	Versión	<b>00</b>
		Página	<b>94 de 117</b>
		Vigencia	<b>10/05/2016</b>

D. Ninguna de las anteriores.

**Respuesta: C.**

**121. Cómo señala usted con el brazo cuando va a girar hacia la izquierda?**

- A. Saca el brazo izquierdo y lo extienden hacia arriba
- B. Saca el brazo izquierdo formando escuadra hacia abajo
- C. Saca el brazo izquierdo y lo extiende horizontalmente
- D. Saca el brazo izquierdo formando escuadra con la mano hacia arriba

**Respuesta: C.**

**122.Cuál señalización con el brazo del conductor de un vehículo que va adelante le indica que va a girar a la derecha?**

- A. Saca el brazo izquierdo y lo extienden hacia arriba
- B. Saca el brazo izquierdo formando escuadra hacia abajo
- C. Saca el brazo izquierdo y lo extiende horizontalmente
- D. Saca el brazo izquierdo formando escuadra con la mano hacia arriba.

**Respuesta: D.**